


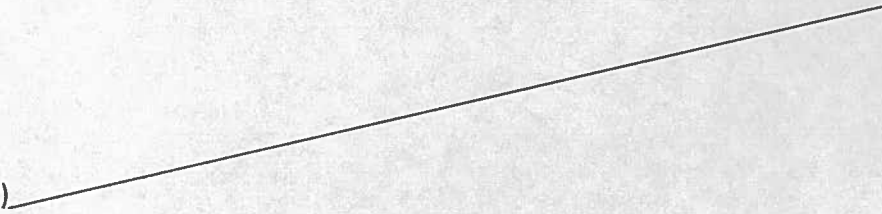
Trace une droite (d) perpendiculaire à la droite (d1)

(d1)



Trace une droite (d2) perpendiculaire à la droite (d1)


(d2)



Trace une droite perpendiculaire à la droite (d3) passant par le point A

A X

(d3)



Trace une droite perpendiculaire au segment [BC]

